



۱- تمام ضرب‌هایی که جواب آن‌ها ۳۶ می‌شود را در جدول زیر بنویسید.

×	۱	۲	۳	۴	۶					

۲- تمام عددهای یک رقمی را که می‌توان به جای \square قرار داد بنویسید.

$$32 > \square \times 8$$

۳- چه عددی را در \square قرار دهیم تا حاصل آن نزدیک‌ترین عدد به جواب باشد؟

$$\square \times 5 < 31$$

$$\square \times 7 < 24$$

$$\square \times 9 < 80$$

۴- در جاهای خالی فقط عددهای یک رقمی قرار داده و حاصل را به دست آورید.

$$\begin{array}{r} \square \square \\ + \square 7 \\ \hline 83 \end{array}$$

$$\begin{array}{r} 7 \square \\ - \square 3 \\ \hline 56 \end{array}$$

$$\begin{array}{r} 4 \square \square \\ + \square 6 \square \\ \hline 821 \end{array}$$

۵- با توجه به شکل‌ها، حاصل ضرب‌ها را به دست آورده و جاهای خالی را کامل کنید.

$$\begin{array}{r} 43 \\ \times 3 \\ \hline \end{array}$$

$$\begin{array}{r} 25 \\ \times 4 \\ \hline \end{array}$$





$$\begin{array}{r} 144 \\ \times 2 \\ \hline \end{array}$$

۶- حاصل ضرب‌های زیر را به دست آورید.

	ص	د	ی
×	۱	۲	۷
			۴

	ص	د	ی
×		۶	۵
			۵

	ص	د	ی
×		۷	۹
			۸



Scanned with CamScanner